




sementes matemáticas


#03

22 no tabuleiro

- Você consegue colocar 22 tampinhas no tabuleiro (8×8) de modo que...



22 \times ●






sementes matemáticas

22 no tabuleiro

- ... a quantidade de tampinhas em cada linha e em cada coluna seja par?



22 \times ●


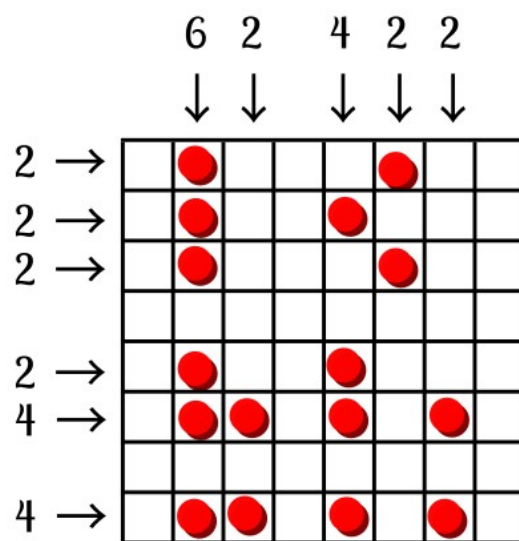




sementes matemáticas

16 no tabuleiro

- Essa seria uma solução para 16 tampinhas!





sementes matemáticas

Estudante, já resolveu o problema com as 22 tampinhas?

■ Tente resolver agora com:

10 tampinhas

6 tampinhas

15 tampinhas

54 tampinhas

Você acha que é sempre possível resolver com qualquer quantidade de tampinhas?

